

深圳大学 2012 年硕士研究生入学考试初试试题

(答题必须写在答题纸上, 写在本试题纸上无效)

考试科目代码: 724 考试科目名称: 城市规划与设计专业知识

专业: 城乡规划学

一、选择填空 (5×5=25)

1. 1986 年国务院审批的设市条件: 应同时满足以下:

- A、非农人口 10000 人以上的镇, 年国民生产总值 10 亿以上的镇;
- B、非农人口 10000 人以上的镇, 年国民生产总值 2 亿以上的镇;
- C、非农人口 60000 人以上的镇, 年国民生产总值 2 亿以上的镇;
- D、非农人口 60000 人以上的镇, 年国民生产总值 10 亿以上的镇;

2. 第三代新城是独立的卫星城, 其代表城市是:

- A、Vallinby, Harlow
- B、Milton-Keynes, 日本多摩新城
- C、Vallinby, Milton-Keynes
- D、Harlow, 日本多摩新城

3. 城市规划各阶段对城市以定性为主要规划目标的是:

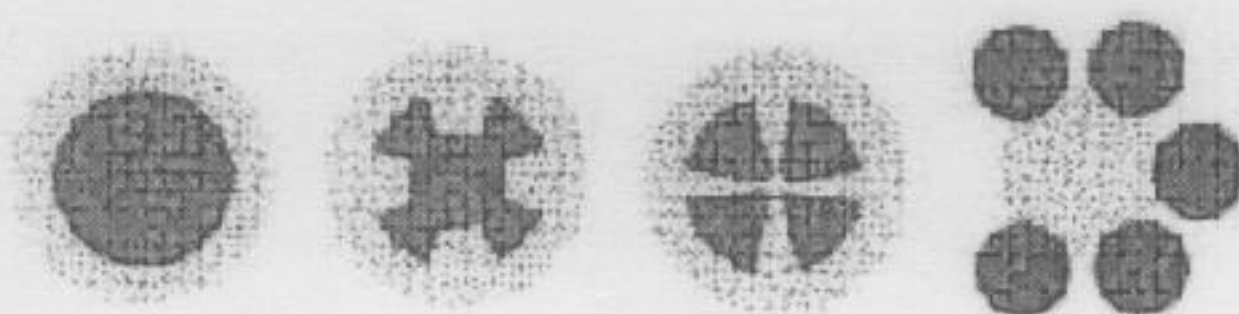
1) 城市规划纲要 2) 总体规划 3) 控制性详细规划 4) 分区规划 5) 修建性详细规划

- A、1), 3)
- B、1), 2)
- C、1), 5)
- D、2), 5)

4. 下列论述中, 正确的是:

- A、居住用地 18.0—28.0 m²/人;
- B、工业用地 30.0—50.0 m²/人;
- C、道路广场用地 20.0—25.0 m²/人
- D、绿地 ≥36.0 m²/人; 其中, 公共绿地 ≥17.0 m²/人

5. 如下图所示, 城市绿化布局结构类型依次为:



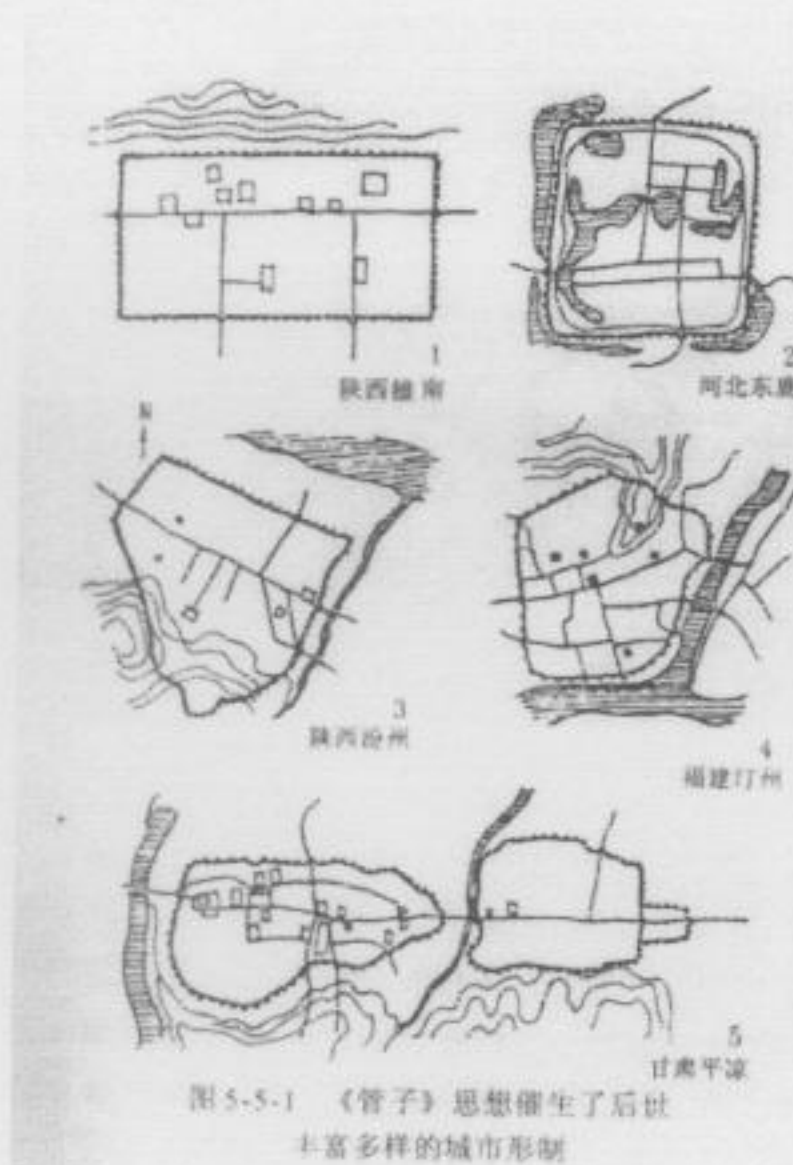
- A、Green Heart; Green Corridor; Green Wedge; Green Belt
- B、Green Wedge; Green Belt; Green Heart ; Green Corridor
- C、Green Wedge; Green Belt; Green Corridor; Green Heart
- D、Green Belt; Green Wedge; Green Corridor; Green Heart

二、名词解释 (4×7=28)

1. TRANSIT VILLAGE
2. 城市人口自然增长与机械增长
3. 历史地段保护的三个方面
4. 居住用地的三级构成

三、论述题 (4×18=72)

1. 试对城市布局中的城市功能、结构和形态及互动关系作简要论述
2. 试列出从城市道路到居住用地内道路的道路分级 (road ranking), 并做简要说明
3. 试论述下图中所示的建城理论, 要求试写出部分原文, 论述其主要思想, 分析右



图并试作出评价。

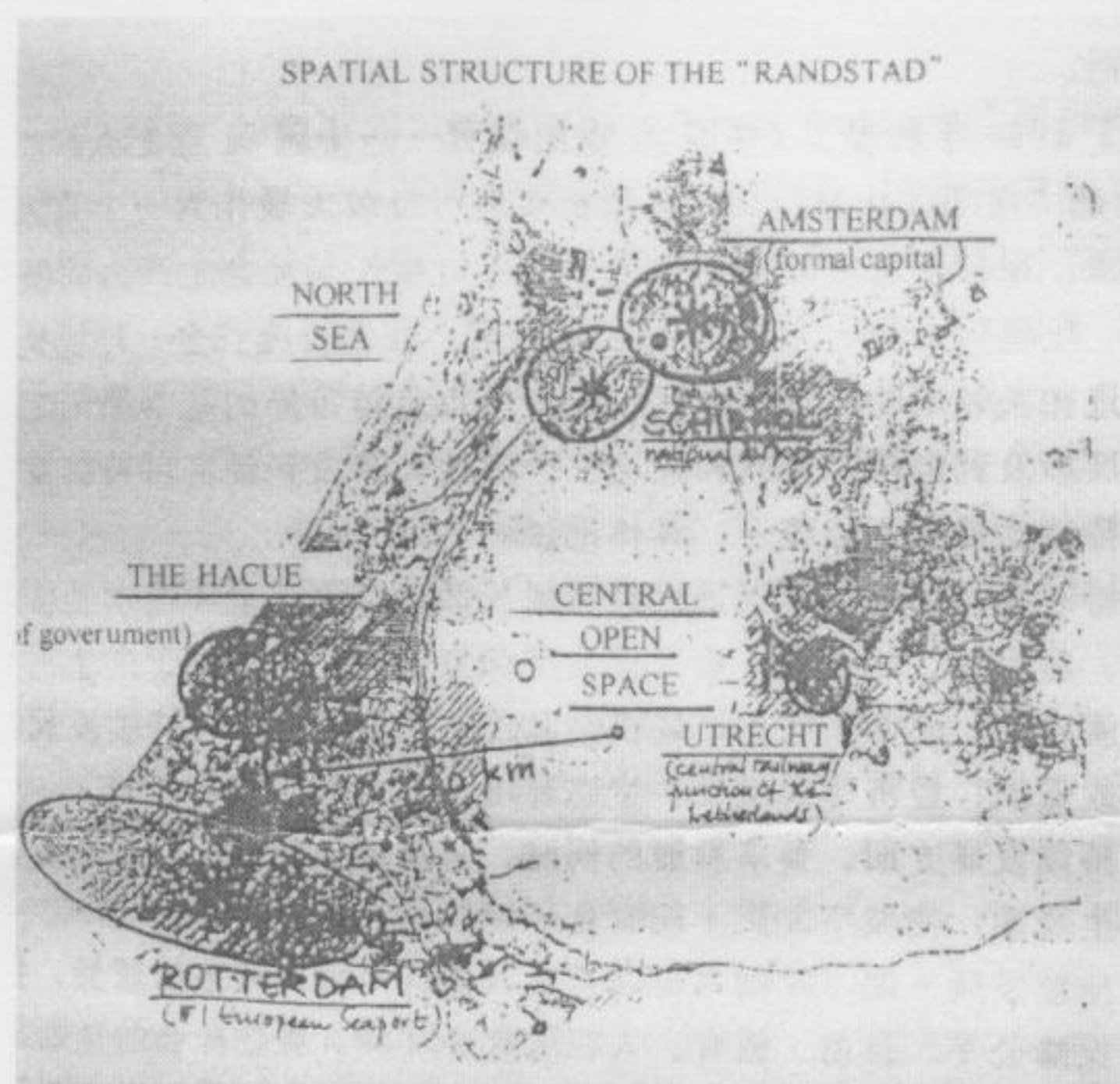
4. 试通过相关国际宪章或重要文件, 简要论述国际城市历史文化遗产保护的发展历程。

四、识图发挥题（1×25=25）

试从自然地理、城市功能及城市布局等方面论述荷兰兰斯塔德都市区（荷兰鹿特丹、海牙、乌特勒支和阿姆斯特丹等城市）的城市结构形态演化及其对我国城市发展的借鉴意义。



兰斯塔德地区的自然地理状况



兰斯塔德地区多中心的都市区域结构演化