

503

华南理工大学
2008 年攻读硕士学位研究生入学考试试卷

(试卷上做答无效,请在答题纸上做答,试后本卷必须与答题纸一同交回)

科目名称: 园林规划设计(做图)

适用专业: 景观建筑学

共 2 页

题目: 南方某小型文化公园景观规划与设计

■ 任务: 在南方某市风景优美的滨水地区, 拟建一小型文化公园, 面积约 2.51 公顷(其中水面约 0.5 公顷)。文化公园东侧为一办公楼, 西侧为文化馆、中学用地(规划), 现进行该文化公园的规划工作。(用地详见附图)

■ 规划设计内容包括:

- 1、小型文化公园详细规划
- 2、茶室建筑设计

■ 设计要求:

1、文化公园详细规划

- (1) 性质: 以文化活动、休憩、观景等功能为主的开放性休闲公园;
- (2) 功能分区: 场地内功能设置自定, 要求主题鲜明、功能结构合理, 交通联系合理简洁, 注意与周边环境的协调, 充分利用场地特征进行规划与设计;
- (3) 停车场: 10 个小车停车位(2.5X5 米)与 2 个旅游大巴停车位(4X12 米);
- (4) 河流常水位标高为 9.50 米, 洪水位标高为 11.00 米, 注意基地洪水线以下场地的合理利用, 滨水驳岸的处理形式等。

2、茶室建筑设计

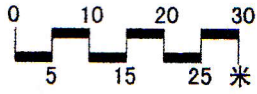
- (1) 功能: 为游客提供休憩、茗茶、咖啡和观景场所;
- (2) 总建筑面积: 220 平方米(可在 10% 内浮动);
- (3) 建筑层数: 两层;
- (4) 办公室一间: 15 平方米;
- (5) 茶室: 120 平方米(部分应设置于二楼, 结合观景平台);
- (6) 服务间: 15 平方米;
- (7) 洗手间: 20 平方米;
- (8) 交通、休憩等其他功能空间面积自定;
- (9) 建筑外形美观、造型独特, 提高公园环境品质。

- 图纸要求：
 1. 公园总平面图：1/500（须标明竖向标高）；
 2. 公园横剖面图 1 个：1/300（须标明竖向标高）；
 3. 规划分析图：内容和比例不限；
 4. 公园主要景点小透视 1 个；
 5. 公园规划简要说明；
 6. 茶室建筑各层平面图：1/100~1/50；
 7. 茶室建筑主立面图 1 个：1/100~1/50；
 8. 茶室建筑剖面图 1 个：1/100~1/50；
 9. 茶室建筑透视图 1 个；
 10. 茶室建筑设计简要说明。

- 图纸规格：2#，表现方式不限。其中公园总平面须单独画在一张 2#图；茶室建筑平、立、剖面须单独画在一张 2#图，其他图纸排版自定。

- 时间：6 小时快题

A-PDF MERGER DEMO



基地地形图 1:1000

说明:

河经常水位标高: 9.50米;
河流洪水水位标高: 11.00米。

停车场

文化馆(现状)

主入口广场

设计范围

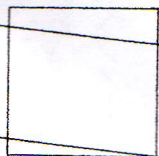
次干道
21M

12.00

11.50

12.30 主干道

图例:




定位网格20米

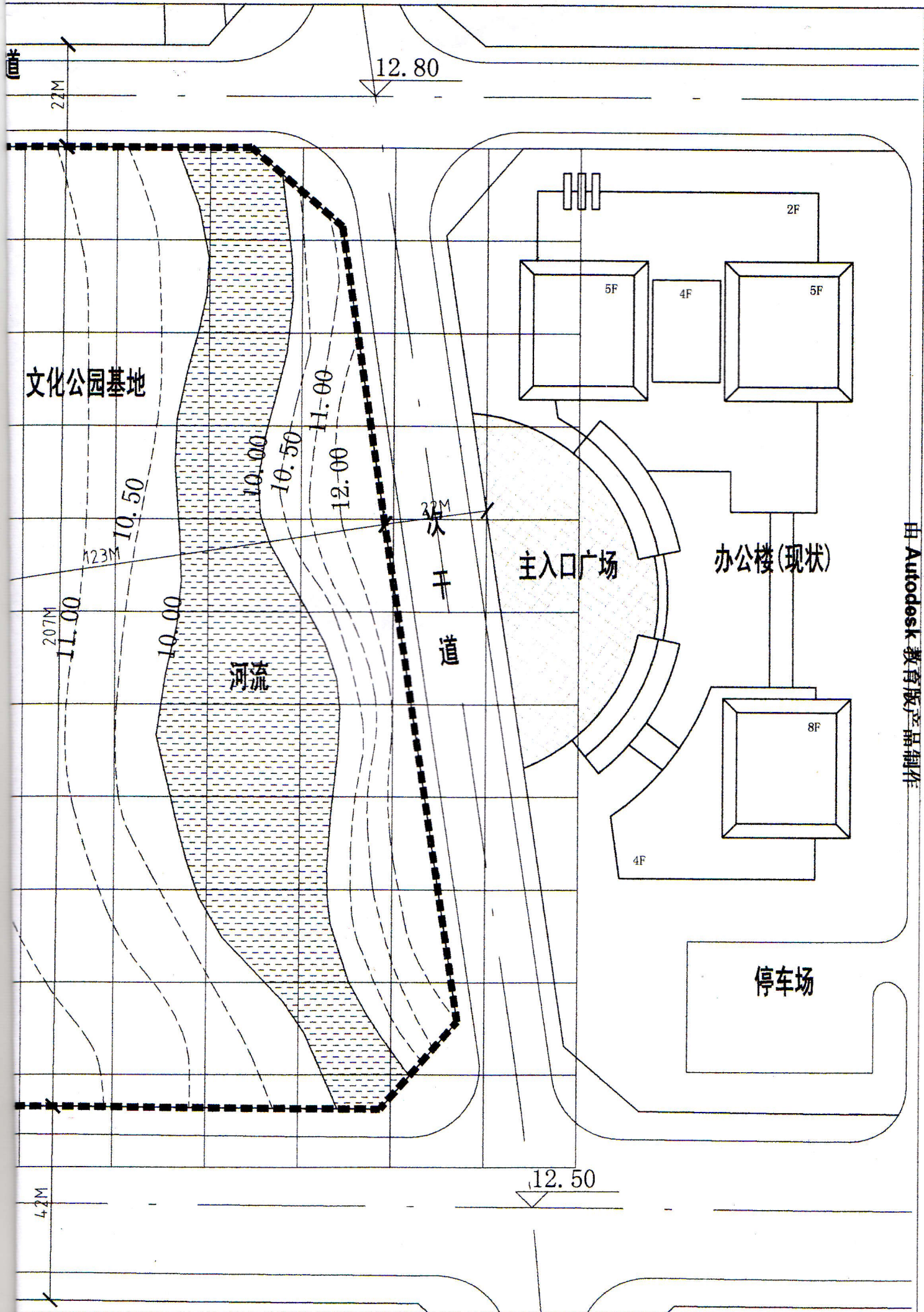
设计范围



道路地面标高



等高线



由 Autodesk 教育版产品制作