

青 岛 科 技 大 学

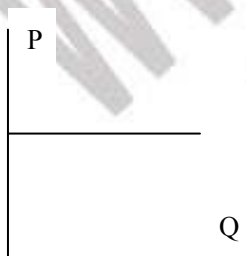
二 00 八 年 硕 士 研 究 生 入 学 考 试 试 题

考 试 科 目：西 方 经 济 学


- 注意事项：1. 本试卷共 五 道大题（共计 34 个小题），满分 150 分；
2. 本卷属试题卷，答题另有答题卷，答案一律写在答题卷上，写在该试题卷上或草纸上均无效。要注意试卷清洁，不要在试卷上涂划；
3. 必须用蓝、黑钢笔或签字笔答题，其它均无效。

一、选择题（单项选择，每题 2 分，共 40 分）：

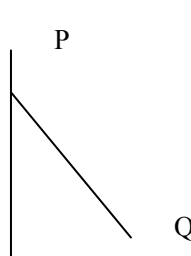
- 1、“边际消费倾向”是指：（ ）。
 - A、在任一收入水平，总消费与总收入之比。
 - B、在任一收入水平，由收入变化引起的消费开支的变化。
 - C、表示各收入水平消费开支数目的一览表。
 - D、任一收入水平微小的变化和这种变化引起的消费变化之间的比率。
 - E、以上都不是。
- 2、需求曲线向右下方倾斜的规律说明：（ ）
 - A、供过于求会导致价格下降。
 - B、价格下跌，需求量减少。
 - C、随着收入的增加，人们通常会增加商品的购买量。
 - D、价格下降，需求量增加。
 - E、收入减少，需求量减少。
- 3、一个病人必须购买某个特定数量的药品，如果有必要，该病人愿意支付任何价格购买它，下面四幅图中哪一幅可以用来说明这一需求状况？（ ）
 - A、(1)。
 - B、(2)。
 - C、(3)。
 - D、(4)。
 - E、都不是。



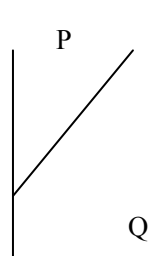
(1)



(2)



(3)



(4)

4、在国民产值和国民收入统计里使用“国民收入”(NI)这个术语特指：()。

A、国民生产净值(NNP)加上企业间接税。

B、国民生产净值(NNP)减去个人和公司所得税。

第 1 页 (共 5 页)

C、国民生产净值(NNP)加上个人和公司所得税。

D、国民生产净值(NNP)减去企业间接税。 E、以上都不对。

5、生产什么，如何生产，为谁生产这三个经济问题：()

A、主要适应于专制或中央计划社会，在这样的社会里，计划问题暴露无遗。

B、仅仅或主要适用于自由企业或资本主义社会，在这样的社会里最突出的问题是选择问题。

C、仅仅或几乎完全适用于发展中国家，因为发展的问题主要是怎样解决这三个问题。

D、适应于所有社会，不管其发展水平如何，也不管其政治制度如何。

E、上述任何一个都不适应，因为他们是各公司或家庭面临的问题，而不是社会面临的问题。

6、科斯的理论表明：()。

A、如果政府不参与的话，谈判一般可以解决外部影响问题。

B、如果产权明晰，并且谈判成本不太高，则有可能通过谈判降低外部影响的程度。

C、无论何时，如果外部影响变得过于严重，则谈判必然被放弃，并由政府的直接干预所替代。

D、只要成本不太高，产权明晰则谈判必定产生一种有效率的结果。

E、以上都不对。

7、一个正在等待重新被招聘的人应归类为：()

A、就业。

B、失业。

C、不在劳动力行列。

D、未充分就业。

E、一个失去信心的工人。

8、商品的边际效用是：()

A、使用商品的最后作用，或者如果有更大的用处则是指下一次被使用时的用处。

B、该商品所产生的总效用与其余所有被消费商品的总效用的关系。

C、连续消费的最后一单位商品所产生的增量效用。

D、表示该商品的价格。

E、与总效用概念相同。

9、消费物价指数是根据购买下列哪一类商品的价格计算的？（ ）。

A、住房。 B、食品。 C、医疗服务。 D、交通。 E、以上所有各项。

10、成本推进型通货膨胀：（ ）。

A、通常被认为是某种供给方价格引起的。

B、通常被认为是某种总需求的增长引起的。

C、反映的是预期的通货膨胀率，经济主要机构因此作过相应的调整。

D、非常不稳定，至少可以说是不可预测的。 E、以上所有各项都不是。

11、“公开市场业务”是指：（ ）

A、商业银行向公司和消费者提供贷款。

B、中央银行向商业银行提供贷款。

C、商业银行贷款总额增加或减少对利率水平的影响。

D、中央银行提高法定准备金率。 E、中央银行买卖政府债券。

12、中央银行提高贴现率，这是其总政策的一部分，主要是为了：（ ）

A、减少商业银行的准备金总额。 B、提高公众收入的储蓄比例。

C、鼓励商业银行增加从央行的贷款。 D、增加商业银行准备金总额。

E、以上各项都不是。

13、如果财政政策和货币政策正在合起来一起对付衰退，可能会同时看到：（ ）

A、预算赤字和公开购买债券。 B、预算盈余和公开购买债券。

C、预算赤字和公开出售债券。 D、预算盈余和公开出售债券。

E、预算平衡和公开出售债券。

14、当“总收益”一词用于需求曲线的讨论时，其含义是：

A、当成本下降后，商品供给者销售商品给消费者所取得的利润。

B、在每一价格下消费者在商品购买上支出的总货币量。

C、供给者卖出其所希望销售的数量所取得的收入。

D、与任何价格水平相联系的商品数量。

E、对需求曲线来讲，总收益一词没有任何作用。

15、与需求的变动不同，需求量的变动意味着：（ ）

A、在现有价格下，消费者决定比以前多（或少）买一些。

B、需求的价格弹性已上升或已下降。

C、不考虑影响购买变动的因素，仅仅考虑购买量的变动。

D、市场价格上升或下降，消费者相应改变其购买总量。

E、总购买量上升，但不包括下降的情况。

16、一个因经济衰退而失去工作的人应归类为：（ ）。

A、摩擦性失业。 B、结构性失业。 C、周期性失业。

D、永久性失业。 E、以上都不是。

17、商品 X 的价格是 1.5 元，Y 的价格是 1 元。如果消费者认为 Y 的边际效用是 30 单位，且购买 X 和 Y 处于均衡状态，那么他必定认为 X 的边际效用是：（ ）

A、15 单位。 B、20 单位。 C、30 单位。 D、45 单位。

E、以上均不对，因为给出的资料不足以说明该问题。

18、在某一企业产量变动区域内，如果边际成本大于平均可变成本，那么，在这一区域内，随着产量的增加，平均总成本：（ ）。

A、必定上升。 B、必定下降。 C、可能上升，也可能下降。

D、必定保持不变。 E、可能上升、下降或保持不变。

19、如果边际消费倾向的值是 0.8，那么乘数的值一定是：（ ）。

A、1.6。 B、2.5。 C、4。 D、1.25。 E、5。

20、如果某企业的边际收益大于其边际成本，那么利润最大化的原则会要求该企业：（ ）

A、不论是完全竞争还非完全竞争，均增加其产量。

B、在完全竞争条件下增加产量，但在不完全竞争条件下则不增加产量。

C、不论是完全竞争还非完全竞争，均减少其产量。

D、在不完全竞争条件下增加产量，但在完全竞争条件下则不增加产量。

E、不论是完全竞争还非完全竞争，均提高价格，但不增加其产量。

二、判断并说明理由（每题 4 分，共 20 分）：

1、稀缺性是有限资源的条件。

2、经济增长是指 GDP 增长。

3、从经济学家的角度来看，社会最优产出一定优于市场产出。

4、当我们投入更多的资本到更多的劳动中去时，最后将出现边际收益递减规律。

5、货币流通速度的变动可以抵消货币供给的变动。

三、分析简答题（40 分）：

1、(6 分)假设已经观察到 X 与 Y 存在同向变化的关系，即 X 下降，Y 也下降，那么，如果有一天 X 下降而 Y 上升了，这是否说明 X 与 Y 之间原来的关系已经不再成立？举例说明。

2、(6 分)如果一个国家的 GDP 为 4000 亿元，而总人口为 1 亿，那么可以断言这个国家中的每人拥有价值 4 万元的商品或劳务。这个结论正确吗？为什么？

3、(6 分)如果一个处于长期均衡的完全竞争市场中需求增加，价格将会发生什么变化？

4、(6 分)挤出效应对扩张性财政政策的效果有何影响？

5、(6 分)“我刚刚听到消息说，今年的 GDP 要比去年的 GDP 高，这意味着我们今年的生活水平要高于去年”。请对此说法进行分析评论。

6、(10 分)假设 A、B 两个企业总成本 TC 均为 600 万元，A 企业的可变成本为 $TVC_A=400$ 万元，B 企业的可变成本为 $TVC_B=500$ 万元。在其他条件相同的情况下，对于希望增加就业保障的雇员来说，哪一个企业更好？为什么？

第 4 页（共 5 页）

四、计算题（每题 15 分，共计 30 分）：

1、假设完全竞争行业中，某企业的成本函数为： $TC=Q^3-6Q^2+19Q+32$ 。试求：

(1) 该企业在什么价格水平下停止营业？

(2) 该企业的短期供给函数如何？

(3) 假若该行业为成本不变行业，其长期供给曲线如何？

2、假定货币供给量用 M 表示，价格水平用 P 表示，货币需求用 $L=ky-hr$ 表示。

(1) 求 LM 曲线的代数表达式，找出 LM 曲线的斜率的表达式。

(2) 求出 $k=0.2$ ， $h=10$ ； $k=0.2$ ， $h=20$ ； $k=0.1$ ， $h=10$ 时 LM 曲线斜率的值。

(3) 当 k 变小时，LM 曲线斜率如何变化；当 h 增加时，LM 曲线斜率如何变化，并说明变化原因。

(4) 当 $k=0.2$ ， $h=0$ 时，LM 曲线的形状如何？

五、论述题（20 分）：

1、据有关报道，受食品价格持续上涨影响，11 月份我国居民消费价格指数 CPI 同比上涨 6.9%，1~11 月累计上涨 4.6%。国家统计局总经济师姚景源表示，预计全年 CPI 上涨 4.7%。

据此分析我国明年宏观经济趋势，如对宏观经济进行调控，应采取何种货币政策？试分析说明。

