

## 1998 年浙江大学建筑构造与结构考研试题

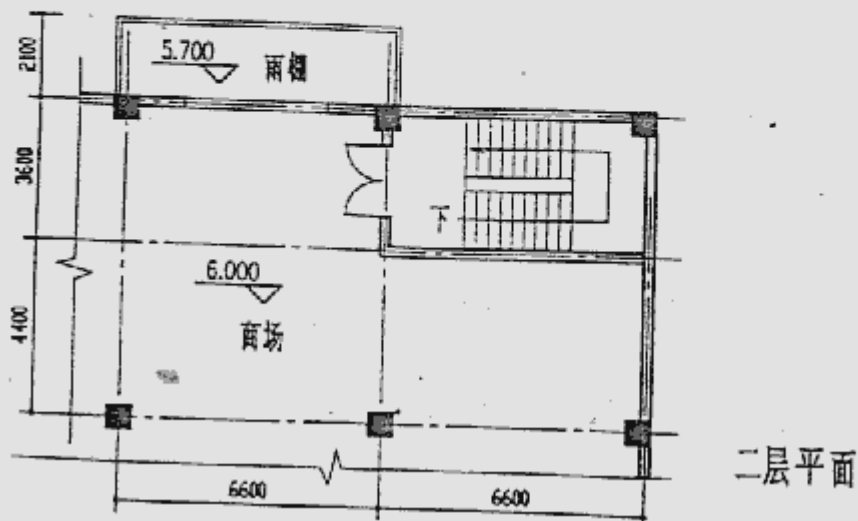
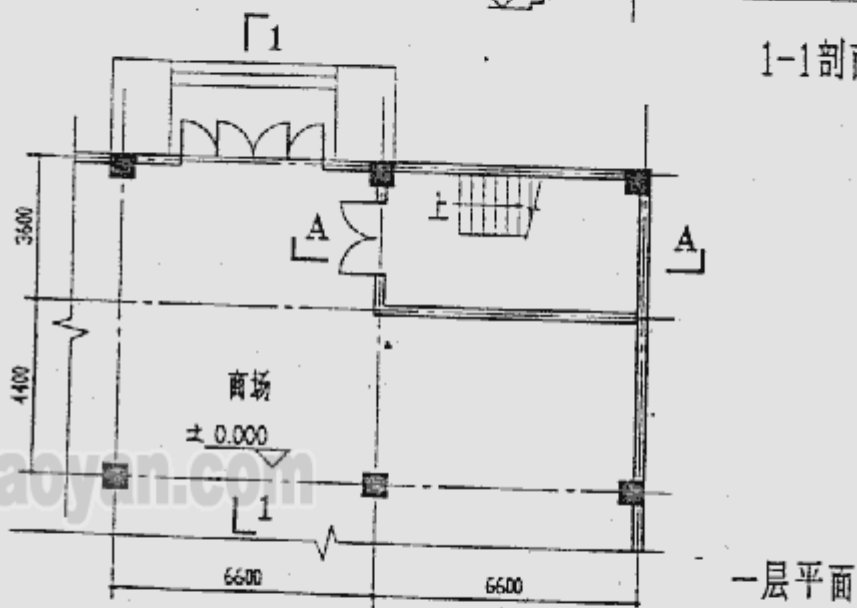
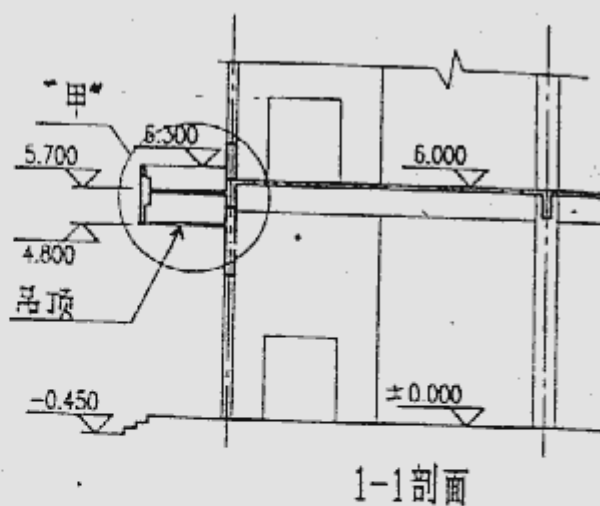
考研加油站收集整理 <http://www.kaoyan.com>

本卷共五题,其中一、二、三题根据图一命题,四、五题根据图二命题除第一题外,其余各题均应在详图中注明各部位材料做法。

图一为某商场一、二层局部平面及1-1剖面示意图,该商场采用框架现浇板结构,楼梯结构形式自定,楼梯栏杆为漏空栏杆,材料自定。入口雨棚下做吊顶,材料自定。

- 一、请作出楼梯剖面图A-A(1:50,范围自一层至二层楼面),图中应注明各平台标高与踏步尺寸(20分)
- 二、请作出楼梯栏杆与踏步、扶手的连接详图(10分)
- 三、请作出入口雨棚“甲”详图(25分)

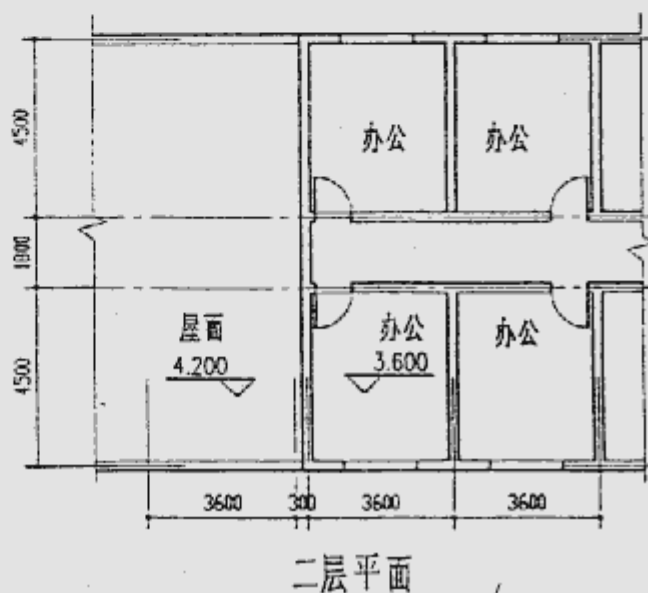
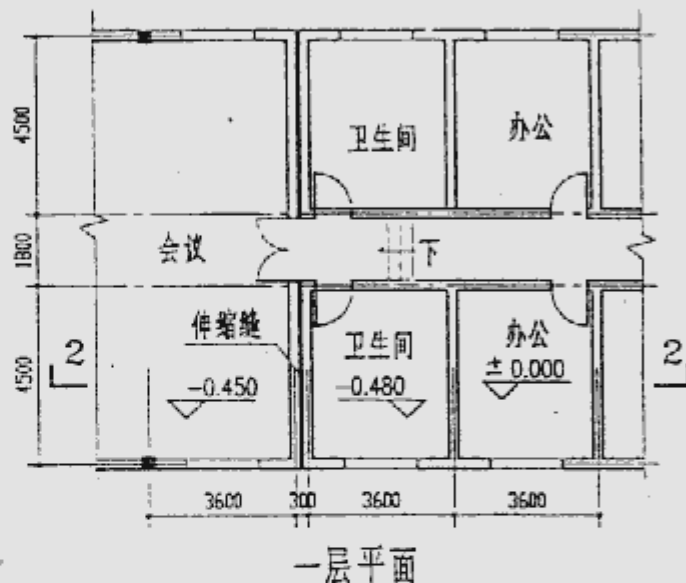
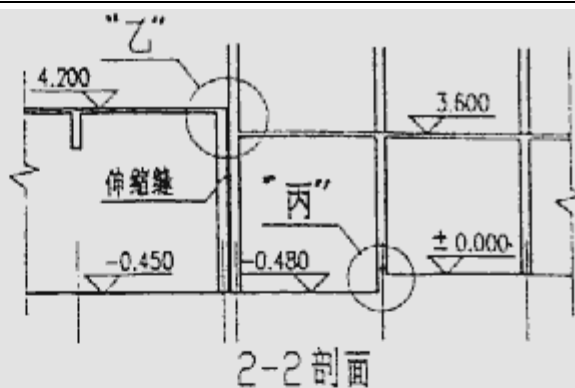
(图一)商场一、二层局部平面  
及1-1剖面示意图



图二为某办公楼一、二层局部平面及2-2剖面示意图。该楼为砖混结构，墙体均为240厚砖墙，楼面、屋面均采用预制多孔板结构，屋面防水做法自定。

四、请作出“乙”节点详图(25分)

五、请作出“丙”节点详图(20分)



图二) 某办公楼一、二层局部平面及2-2剖面示意图