

# 同济大学一九九八年硕士生入学考试试题

考试科目: 装修构造 编号: 132-1  
2

答题要求: 字迹清晰, 使用铅笔绘图  
比例与相应配图一样.

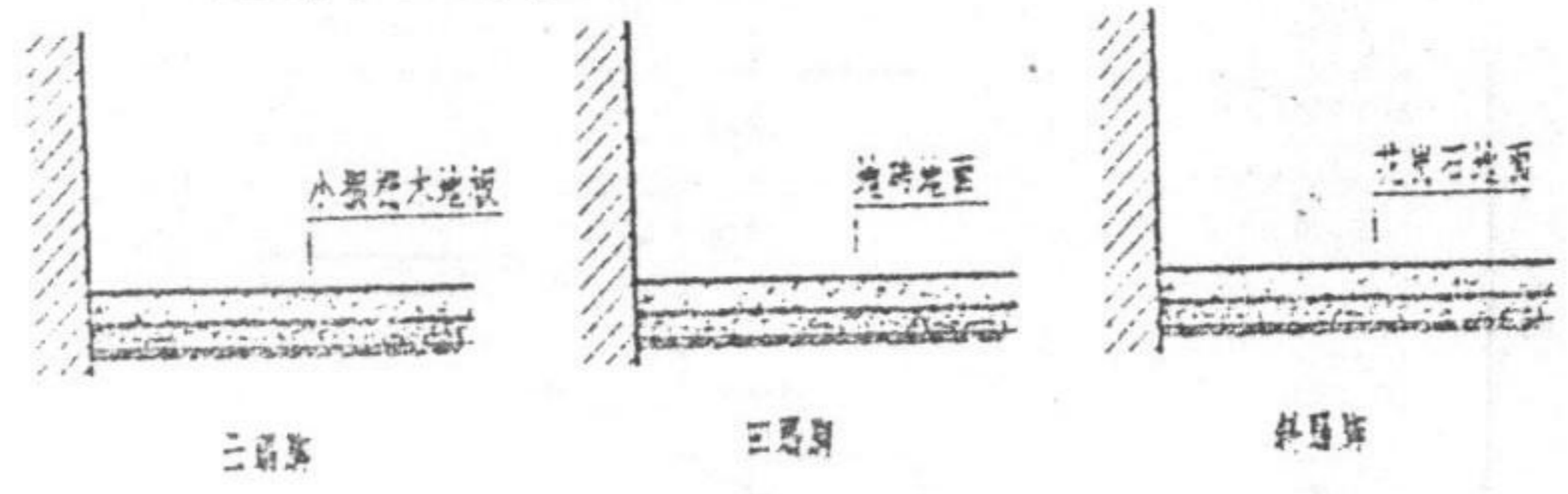
## 一、问答题和填空题 (每题10分, 共40分)

1. 高级建筑装修至高二层楼高为\_\_\_\_层、\_\_\_\_层、\_\_\_\_层, 前至二层用什么材料? 各自的功能是什么?
2. 请分别写出外墙与梁交接处的构造二顺序: \_\_\_\_\_
3. 请分别写出内墙与梁交接处的构造二顺序: \_\_\_\_\_
4. 柱面贴石材面层上有什么特点? 吸水率的高低对面板装饰有什么影响?
5. 高标准建筑, 装饰门楣至二楼交接处包钉木装饰材料, 其专业名称叫\_\_\_\_\_, 在门框下边包钉木料, 其专业名称叫\_\_\_\_\_
6. 花岗岩和大理石各有什么特点? 在装饰面材料时有什么不同的应用范围?
7. 水磨石和干磨石在外观上基本一样, 但在施工工艺上有什么不同? 第一道工序是什么?

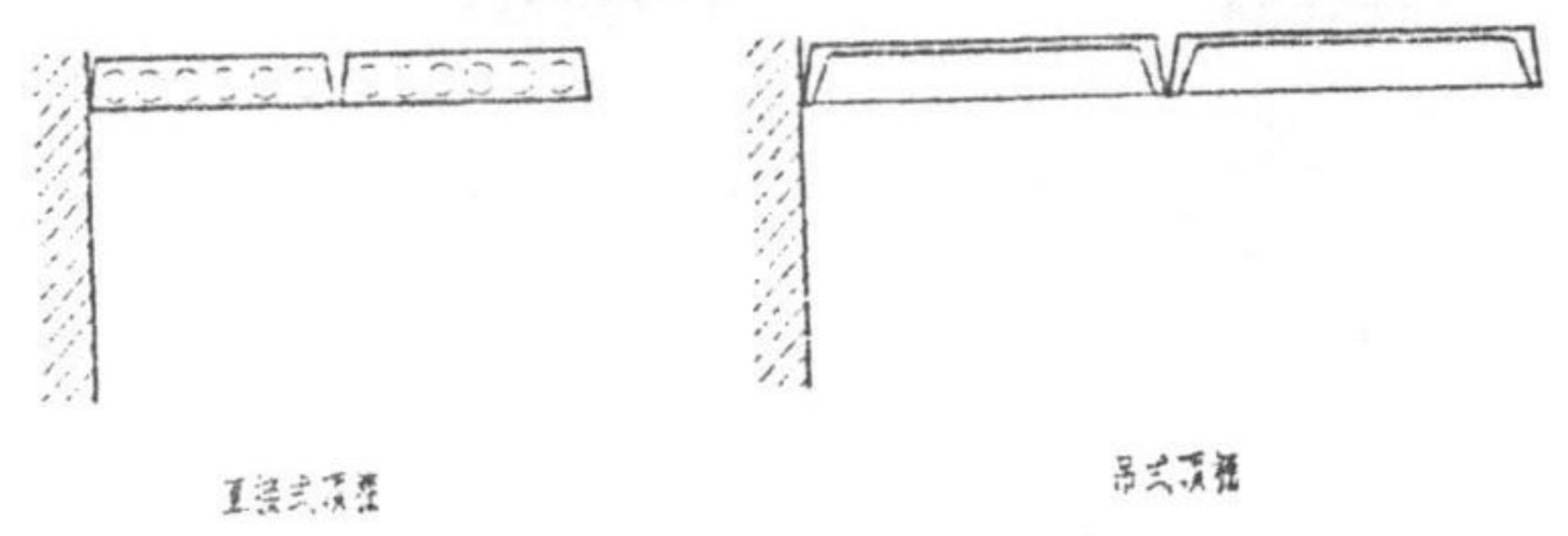
2. 公共建筑楼梯的净空高度一般不小于\_\_\_\_M, 当梯段宽度大于\_\_\_\_M时, 应加设扶手, 扶手的竖向栏杆间距不得小于\_\_\_\_MM.

## 二、问答作图题 (每题10分, 共30分)

1. 室内地面铺装的作用是什么? 其所用的材料根据什么定? 请画出以下几种铺装和地面的构造.



2. 请画出二种吊顶与墙面交接处的节点详图 (材料和做法自定)



3. 抛光不锈钢薄板包圆柱, 有二种对口方式: 一种是直接对口式, 一种是嵌槽压口式, 请画出其示意图.



同济大学一九九八年硕士生入学考试试题

112  
P112

考试科目： 装饰构造


编号：132 -2

答题要求：

4、请画出下列三种楼或地的构造剖面并点明详图。



原土或碎石板小面

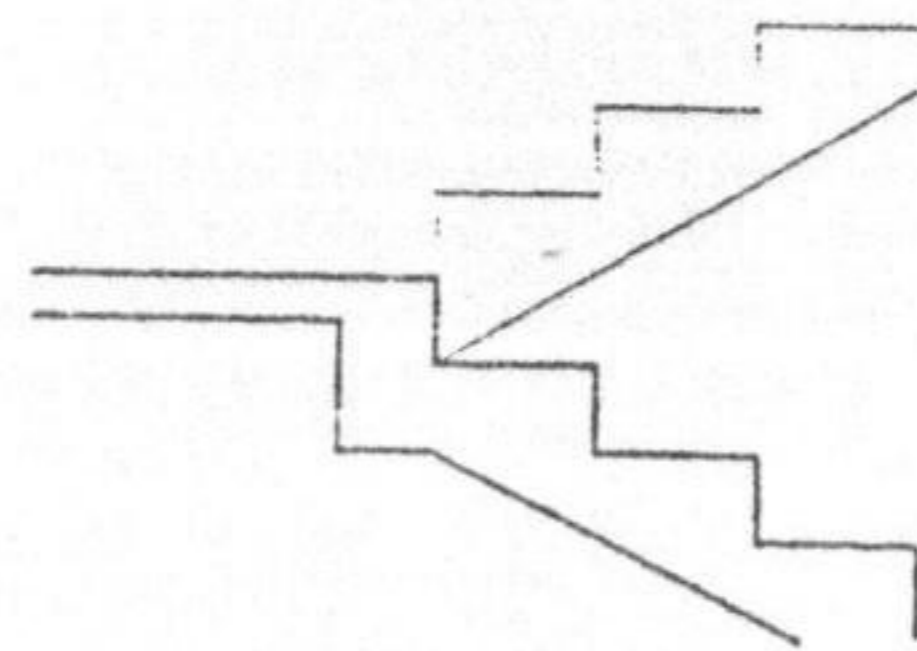


水泥砂浆面层




木装小面

5、请画出一节楼梯扶手和靠墙扶手。（材料和做法自定）

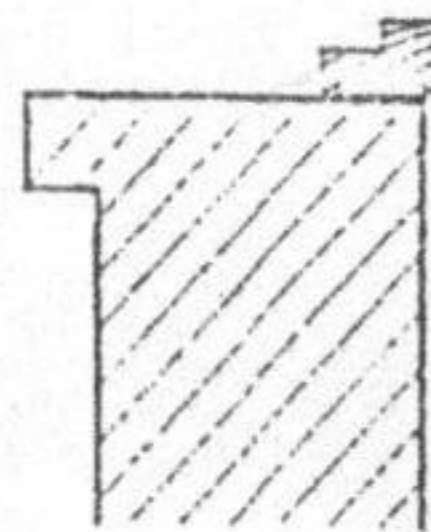


木楼梯扶手和尺寸

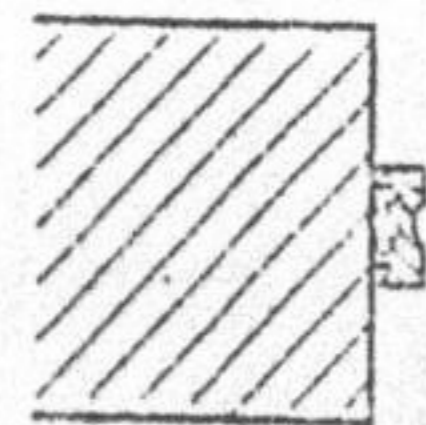


木靠墙扶手和尺寸

6、画出门、窗的局部大样。（包括墙面粉刷与门窗框的交接）



外开木窗



硬木弹簧门