

沈阳农业大学 2012 年硕士生入学初试试题

考试科目：园林设计与中外园林史 共 3 页

分 值：150 分

适用专业：风景园林学

注意：答案必须写在答题纸上，写在题签上无效

一、名词解释（共 45 分，每题 3 分）

1. 计成：
2. 沧浪亭：
3. 建章宫：
4. 《作庭记》：
5. 筑山庭：
6. 布朗 (Lancelot Brown)：
7. 公园绿地：
8. 生产绿地：
9. 防护绿地：
10. 园林艺术：
11. 多样统一法则：
12. 障景：
13. 风景名胜区：
14. 风景名胜区规划：
15. 风景资源：

二、判断题（共 10 分，每题 1 分）

1. 僧人祖秀的《华阳宫记》是了解宋代寿山艮岳的重要文献。
2. 《洛阳名园记》详细记述了李格非亲自参与设计的 19 处著名园林。
3. 苏州著名的四大名园是拙政园、网师园、留园、豫园。
4. 由于适应复杂地形条件下城市的发展，中国唐代洛阳曾采取了宫城在前、衙署在后，百官上朝都要走后门的变通办法。
5. 园林设计程序中各步骤间有分明的界限，不能互相重叠、渗透。
6. 在一定的地段范围内，利用并改造天然山水地貌或者人为地开辟山水地貌，结合植物的栽植和建筑的布置，从而构成一个供人们观赏、游息、居住的环境的全过程称之为造园。
7. 罗马庄园的鼎盛时期是从 16 世纪 40 年代以后开始的，其中最著名的三大庄园为法尔奈斯庄园、埃斯特庄园及兰特庄园。
8. 就造园的“相地”而言，凡尔赛宫的选址是明智的，这里到处“有景、有水，有树”，确实为此后伟大景观的形成解决了不少问题。
9. 18 世纪初，勒诺特尔的《造园的理论与实践》一书，被看作是“造园艺术的圣经”，它标志着法国古典主义园林艺术理论的完全建立。
10. 1778 年，吉拉丹按照卢梭《新爱洛绮丝》里描写的克拉伦的爱丽舍花园，建造了一座小花园，以表示对卢梭的尊敬。园中建造名人墓穴成为纪念性花园的一种模式，但后来很少出现。

三、选择题（共 5 分，每题 1 分）

1. 中国古典园林中求仙功能最早出现在（）。

- A 未央宫 B 上林苑 C 建章宫 D 兰池宫

2. 濠濮涧-画舫斋是（）的园中园。


- A 圆明园 B 西苑 C 颐和园 D 避暑山庄

3. （）是最早的一部有关岭南所产花卉的专著。


- A 北魏贾思勰《齐民要术》 B 晋人嵇含《南方草木状》 C 周《诗经》

4. 下列哪种植物配置方式更合适（）。

A



B



5. 建设用地比较理想的坡度为（）。

- A 1-5% B 5-10% C 10-15% D 大于 15%

四、简答题（共 25 分，每题 5 分）

1. 古希腊园林的特征。

2. 举例说明宋代洛阳私家园林特征。

3. 园林各要素在设计中的作用。

4. 城市园林绿地的功能。

5. 你知道世界上有哪些主要的古典园林类型，形成这些类型园林的历史背景及特征是什么？

五、论述题（共 20 分，每题 10 分）

1. 简述文艺复兴意大利台地园的演变过程及特征。


2. 城市园林绿地规划的主要程序。

六、绘图及综合分析题（共 45 分，第 1 题 15 分，第 2 题 30 分）

1. 绘静心斋平面图，标注不少于 10 处主要建筑名称、位置；分析其总体布局艺术特征。

2. 下图为一处独栋别墅建筑首层平面及其周围花园用地，建筑为简欧风格，花园用地一侧临水，据此完成私家花园设计。要求 1) 体现场地及建筑特征；2) 满足别墅花园基本使用功能；3) 完成平面图（体现植物配置）、局部剖立面图、透视图以及包括项目分析、构思立意、主要植物配置表等内容的设计说明。

比例尺



北
↑

